






AYT

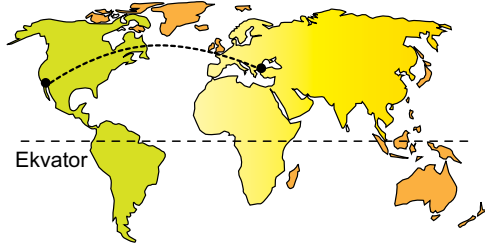
**COĞRAFYA
TARİH**



1. DENEME



1. 2015 Nobel Kimya Ödülü'nü, Türk bilim insanı Prof. Dr. Aziz Sançar, Tomas Lindahl ve Paul Modrich aldı. ABD'deki Kuzey Carolina Üniversitesi Biyokimya ve Biyofizik Bölümü Öğretim Üyesi Prof. Dr. Aziz Sançar, kanser tedavisinde 'ritmik saat' buluşuna imza atarak dünya çapında üne kavuşmuştur. Aziz Sançar, 16. saat diliminde yer alan ABD'nin Alabama eyaletinde yaşamaktadır. Haritada Sançar'ın, Aralık 2015'te İstanbul'a gelirken izlediği rota verilmiştir.



Yalnızca yukarıdaki bilgilerden yararlanılarak aşağıda verilenlerden hangisi söylenebilir?

- A) Sançar, bir saat daha ileri saat diliminde yaşamaktadır.
 B) Sançar, İstanbul'a ulaşmak için Büyük Okyanus'u aşmalıdır.
 C) Sançar 15 Aralık 2015'te yola çıktığında, 14 Aralık 2015'te İstanbul'a varmış olur.
 D) Sançar, Türkiye'ye göre 10 saatlik zaman farkı bulunan bir yerde yaşamaktadır.
 E) Sançar, tarih değiştirme çizgisini aşmak zorundadır.

2. Atmosfere insanoğlu tarafından salınan gazların neden olduğu düşünülen sera etkisi sonucunda, dünya üzerinde yıl boyunca kara, deniz ve havada ölçülen ortalama sıcaklıklarda yaşanan artış "küresel ısınma" olarak adlandırılır.

Buna göre;

- I. volkanik patlamaların ve depremlerin artması,
 II. artan nüfusun ihtiyacı olan kullanma suyu miktarının önemli oranda artması,
 III. sıcaklık artışına bağlı olarak yağışların düzensiz hâle gelmesi

gibi durumlardan hangilerinin, küresel ısınma ile ortaya çıkacağı düşünülen değişimler arasında yer aldığı söylenemez?

- A) Yalnız I B) Yalnız II C) Yalnız III
 D) I ve II E) II ve III

3. İnsanın yeryüzünde ortaya çıktığı dönemden Sanayi Devrimi'ne kadar geçen süreçte, nüfusun belirli merkezlerde yoğunlaşmasını sağlayan faktörler günümüzde büyük bir değişime uğramıştır.

Bu durumun ortaya çıkmasında;

- I. ekonomik gelir dağılımı,
 II. endüstriyel gelişmişlik düzeyi,
 III. başlıca ekonomik faaliyetler

olgularından hangilerinin doğrudan etkili olduğu söylenebilir?

- A) Yalnız I B) Yalnız II C) I ve II
 D) II ve III E) I, II ve III

4. Erzurum'da yaşamını sürdüren Kâmil, yaşadığı yerle ilgili olarak aşağıdaki bilgileri veriyor.

- Şehrimiz yıl boyunca sıcaklık değerlerinin düşük olduğu bir yerdir.
- Yılın birkaç ayı kar örtüsünün yerde kaldığını görürüz.
- Burada boş araziler genellikle çayırırla kaplı olduğu için yaygın olarak hayvancılık faaliyetleri yapılır.

Kâmil'in verdiği bilgilere bakılarak bu durumların ortaya çıkmasında, aşağıda verilenlerden hangisinin temel etken olduğu söylenebilir?

- A) İklim B) Yer şekilleri
 C) Hâkim rüzgâr yönü D) Basınç sistemleri
 E) Yükselti

5. Öğrencilerine saha gözlemleri yaptırmak isteyen bir coğrafya profesörü, öğrencileriyle Karaman merkezden, Taşeli ilçesine doğru otobüsle yola çıkmış ve bu esnada şu diyaloglar gerçekleşmiştir:

Profesör: Arkadaşlar, şu anda karstik bir alandan geçiyoruz. Lapyalara özellikle dikkat etmenizi istiyorum. Birazdan otobüsü durdurup aşağı ineceğiz, bölge hakkında sohbet edeceğiz.

Doruk: Hocam burada karstik arazi bulunmaz. Çünkü karstik yer şekillerinin bulunması için, mermer türünde kayaların oldukça fazla olması gerekir.

Gamze: Karstik arazi yalnızca kireç taşının bulunduğu alanlarda oluşur diye bir kural yoktur. Örneğin Sivas'ta, alçı taşı üzerinde gelişmiş karstik yer şekilleri görülebilir.

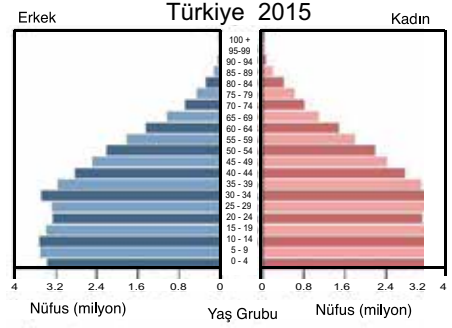
Doğan: Türkiye'de karstik araziler Toros Dağları ve çevresinde oldukça yaygındır. Dolayısıyla bu bölgede görülen yer şekilleri karstlaşma sonucunda oluşmuştur.

Erdinç: Karstik arazilerin Türkiye'de oldukça yaygın olduğu söylenebilir. Çünkü Türkiye'de kireç taşı, kaya tuzu ve alçı taşı gibi çözünebilen kayalara pek çok yerde rastlanabilmektedir.

Buna göre, Türkiye'de karstik yeryüzü şekillerinin oluşumu ile ilgili yanlış yorumu hangi öğrenciler yapmıştır?

- A) Yalnız Doruk
- B) Yalnız Gamze
- C) Yalnız Doğan
- D) Doruk ve Erdinç
- E) Gamze ve Doğan

6.



Yukarıda verilen 2015 yılı Türkiye nüfus piramidine bakılarak;

- I. aktif nüfus oranı,
- II. çocuk nüfus oranı,
- III. ortalama yaşam süresi

değerlerinin hangilerinde artış yaşandığı söylenebilir?

- A) Yalnız I
- B) Yalnız II
- C) Yalnız III
- D) I ve II
- E) I ve III

DENEME 1 TARİH

1. Onlu sistemle ilk düzenli orduyu kurup Çin'i vergiye bağlayan Türk hükümdarı aşağıdakilerden hangisidir?

- A) Attila B) Mete Han C) Teoman
D) Bilge Kağan E) Bumin Kağan

2. Aşağıda verilenlerden hangisi, İslam öncesi Türklerde din ve inanışla ilgili bir kavram değildir?

- A) Menhir B) Balbal C) Yuğ
D) Kurgan E) Şaman

3. Türklerin İslamiyet'i kabulüyle birlikte İslamiyet yeni coğrafyalara yayılmıştır.

Buna göre, İslamiyet'in yayılmasına katkıda bulunan Türk-İslam devletleri arasında aşağıdakilerden hangileri gösterilebilir?

- I. Büyük Selçuklular
II. Gazneliler
III. Osmanlılar

- A) Yalnız III B) I ve II C) I ve III
D) II ve III E) I, II ve III

4. Aşağıdaki Türk devletlerinden hangisi kurulduğu coğrafya bakımından diğerlerinden farklıdır?

- A) Memlükler B) Gazneliler
C) Tolunoğulları D) Eyyubiler
E) Akşitler

5. Aşağıdaki olaylardan hangisi diğerlerinden daha sonra gerçekleşmiştir?

- A) Haçlı Seferleri
- B) Yüzyıl Savaşları
- C) Kavimler Göçü
- D) Çifte Gül Savaşları
- E) Magna Carta Libertatum

7. Aşağıdakilerden hangisi XVII. yüzyıl Osmanlı Devleti'yle ilgili doğru bir bilgi değildir?

- A) Celali İsyanlarıyla Anadolu'da düzen bozulmuştur.
- B) Merkez isyanları zaman zaman padişah değişikliğine neden olmuştur.
- C) Islahatlar devlet adamlarının ömrüyle sınırlı kalmıştır.
- D) Avrupa örnek alınarak düzenlemeler yapılmıştır.
- E) İsyanlar şiddete dayalı olarak bastırılmıştır.

8. 1774'te imzalanan Küçük Kaynarca Antlaşmasına göre;

- Kırım bağımsız olacak,
- Rusya; İngiltere ve Fransa'ya verilen kapitülasyonlardan yararlanabilecek,
- Osmanlı Devleti Rusya'ya savaş tazminatı ödeyecek,
- Rusya, Osmanlı Ortodokslarının haklarını koruyacak

maddeleri yer almıştır.

Verilen bu bilgilerden yola çıkılarak aşağıdaki yargılardan hangisine ulaşamaz?

- A) Osmanlı Devleti, Rusya'ya ilk kez kapitülasyonlar vermiştir.
- B) Osmanlı Devleti savaş suçlusu kabul edilmiştir.
- C) Osmanlı Devleti'nin egemenlik alanı daralmıştır.
- D) Osmanlı Devleti ekonomik kayba uğramıştır.
- E) Rusya, Osmanlı Devleti'nin iç işlerine müdahale edecek hâle gelmiştir.

6. Aşağıdakilerden hangisi Orhan Bey döneminden Osmanlı Devleti'nde yaşanan gelişmelerden biri değildir?

- A) Edirne, başkent yapılmıştır.
- B) Düzenli ordu kurulmuştur.
- C) İznik'te ilk medrese kurulmuştur.
- D) İlk vakıflar kurulmuştur.
- E) Gelibolu'nun fethi başlamıştır.

DENEME 1 TARİH

9. Mora'da çıkan Yunan İsyan'ında, aşağıdaki-lerden hangisinin bir etkisi olamaz?

- A) Etniki-Eteryia Cemiyetinin bölücü faaliyetleri
- B) Egemenlik anlayışını değiştirme fikri
- C) Milliyetçilik fikrinin yayılması
- D) Osmanlı merkezî otoritesinin zayıflaması
- E) Rusya'nın bölge halkını kışkırtması

10. Osmanlı Devleti'nde geliri maaş karşılığında devlet memurlarına verilen toprak aşağıdaki-lerden hangisidir?

- A) Ocaklık
- B) Dirlik
- C) Paşmaklık
- D) Yurtluk
- E) Malikâne




AYT

**COĞRAFYA
TARİH**



2. DENEME



DENEME 2 COĞRAFYA

1. Endüstride ya da elektrik enerjisi üretiminde kullanılan aşağıdaki birincil enerji kaynaklarından hangisi, yenilenebilir enerji kaynaklarına örnek verilemez?

- A) Nükleer
- B) Güneş
- C) Rüzgâr
- D) Hidrolik
- E) Jeotermal

2. Bir yerleşmenin yakın çevresinde önce bir baraj inşa edilmiş, ardından linyit çıkarımına bağlı madencilik faaliyetleri başlamış ve son olarak bir kereste fabrikası açılmıştır.

Bu yerleşmede yaşanan aşağıdaki değişimlerden hangisi, yukarıda verilen faaliyetlerin ortak sonucudur?

- A) Enerji üretiminin artması
- B) Nüfus ve yerleşme özelliklerinin değişmesi
- C) Orman alanlarında kesimin hızla artması
- D) Sanayi bitkilerinin üretilmesi
- E) Hava kirliliğinin artması

3. Norveç ile İsveç arasındaki enerji anlaşmasına göre, yağışın bol olduğu ve hidroelektrik üretiminin arttığı yıllarda İsveç, Norveç'ten elektrik satın alarak nükleer enerji üretimini azaltmakta; tersi durumda da Norveç, İsveç'ten elektrik satın aldığı için İsveç'te nükleer enerji üretimi artmaktadır.

Bu parçada verilen bilgilere dayanarak aşağıdaki yargılardan hangisine ulaşamaz?

- A) İklim özellikleri uluslararası ilişkileri etkilemektedir.
- B) Enerji üretim planları, iklim koşullarından etkilenmektedir.
- C) İsveç'te nükleer enerji üretimi, iklim koşullarına göre değişim göstermektedir.
- D) Norveç'in hidroelektrik üretim potansiyeli İsveç'ten fazladır.
- E) İsveç'te sadece nükleer enerji üretilmektedir.

4. soru aşağıdaki parçaya göre cevaplandırılacaktır.

Eski Konya Gölü, İç Anadolu Bölgesi'nde; Konya, Çumra, Karaman, Ereğli ve Karapınar ovalarını içine alan Konya Kapalı Havzası'nda yer almaktaydı. Daha önceki dönemlerde, nemli ve serin iklim koşullarının etkisiyle meydana gelmiş olan gölün ortalama derinliği 15-20 m civarındaydı. Göl, günümüzden yaklaşık 10-12 bin yıl önce kurumaya başlayarak aşamalı olarak çekilmiştir. İlk insanların, yerleşim yerlerini göllerin kıyılarında ve su ihtiyacının kolay sağlandığı birikinti konilerinde kurdukları görülmektedir. Konya çevresinde bulunan neolitik, kalkolitik ve tunç çağı höyük yerleşmelerinde Hititler, Frigler, Kimmerler, Lidyalılar, Persler ve Romalılara ait izler vardır.

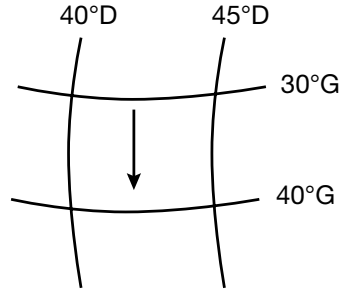
4. Eski Konya Gölü'nün çevresindeki eski yerleşmelerin özellikleriyle ilgili,

- I. Göl kıyıları yerleşim yeri olarak seçilmiştir.
- II. Höyük yerleşmelerinde Türk kültürüne ait izler görülmektedir.
- III. Neolitik ve Maden Çağı'na ait yerleşmelerin kalıntıları bulunmaktadır.
- IV. Birikinti konileri yerleşim yeri olarak seçilmiştir.

bilgilerinden hangilerine ulaşamaz?

- A) Yalnız I B) Yalnız II C) I ve II
D) II ve III E) III ve IV

5. Coğrafi koordinatları bilinen bir bölgenin birçok özelliği saptanabilir.



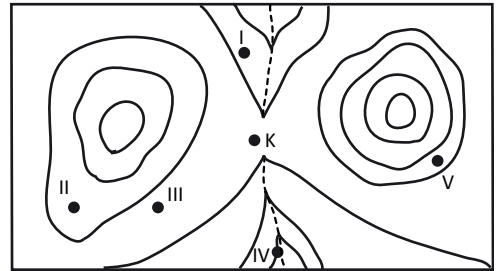
Buna göre, yukarıda konumu verilen bölgede ok yönünde gidildiğinde,

- I. Çizgisel hız artar.
- II. Güneşin doğuş/batış süresi artar.
- III. İki meridyen arası mesafe artar.
- IV. Güneş ışınlarının geliş açısı azalır.

bilgilerinden hangilerine ulaşamaz?

- A) I ve II B) I ve III C) II ve III
D) II ve IV E) III ve IV

6.



Yukarıdaki topografya haritasında K noktası bir boyunda yer almaktadır. Kesik çizgiler kuru dere yatağıdır.

Haritaya göre numaralandırılmış noktalardan hangisinin yükseltisi en azdır?

- A) I B) II C) III D) IV E) V

DENEME 2 TARİH

1. Aşağıdakilerden hangisi Orta Asya Türk kültür bölgeleri arasında yer almaz?

- A) Tagar B) Tuşpa C) Anav
D) Andronova E) Karasuk

2. Aşağıdakilerden hangisi Kavimler Göçü'nün sonuçları arasında yer almaz?

- A) Roma İmparatorluğu ikiye ayrılmıştır.
B) İlk Çağ bitmiş, Orta Çağ başlamıştır.
C) Kilisenin nüfuzu artmıştır.
D) Feodalite rejimi ortaya çıkmıştır.
E) Merkezî krallıklar güç kazanmıştır.

3.



Akib Özbek, "Türkiye Cumhurbaşkanlığını temsil eden, Cumhurbaşkanlığı forsunadaki güneş Türkiye Cumhuriyeti'ni, 16 yıldız da büyük Türk devletlerini temsil eder." bilgisini vermiştir.

Buna göre, Cumhurbaşkanlığı forsunadaki 16 yıldızın temsil ettiği Türk devletleri arasında, aşağıdakilerden hangisi olamaz?

- A) Asya Hunları B) Köktürkler
C) Karahanlılar D) Gazneliler
E) İlhanlılar

4. Aşağıdakilerden hangisi Karahanlıların İslamiyet'i kabulünden sonra da Türk geleneklerini devam ettirdiklerine kanıt gösterilemez?

- A) Hükümdarların 'Han' unvanını kullanmaları
B) Resmî dillerinin Türkçe olması
C) Uygur alfabesini kullanmaları
D) Şeri hukuk kurallarını uygulamaları
E) Yönetimde ikili teşkilatı uygulamaları

5. I. Saltuklular – Erzurum
II. Mengücekliler – Erzincan
III. Çaka Beyliği – Sivas
IV. Danişmentliler – Konya

Yukarıda Anadolu’da kurulan ilk Türk beylikleri ve kuruluş yerleri verilmiştir.

Verilen eşleştirmelerden hangileri yanlıştır?

- A) I ve II B) I ve III C) II ve III
D) II ve IV E) III ve IV

7. **Aşağıdakilerden hangisi Osmanlı Devleti’nin kısa sürede güçlenmesinde etkili olan bir durum değildir?**

- A) İskân politikasının başarıyla uygulanması
B) Anadolu, Balkanlar, Bizans’ta otorite boşluğunun olması
C) İstimalet politikasının uygulanması
D) Devlet teşkilatlanmasının hızlı olması
E) Halifelik yetkisini elinde bulundurması

6. **Avrupa’da yaşanan aşağıdaki gelişmelerden hangisinin Türk-İslam dünyasına etkisi diğerlerine göre daha azdır?**

- A) Haçlı Seferleri
B) Yüzyıl Savaşları
C) Magna Carta Libertatum
D) Coğrafi Keşifler
E) Rönesans

8. Mısır Seferinin sonuçları arasında;
I. Memluk Devleti’nin yıkılması,
II. Halifelik yetkisinin Osmanlı hanedanına geçmesi,
III. Baharat Yolu’nun Osmanlı denetimine geçmesi

yer alır.

Bunlardan hangileri Mısır seferinin, Osmanlı Devleti’ne ekonomik gelir sağladığına kanıt gösterilebilir?

- A) Yalnız III B) I ve II C) I ve III
D) II ve III E) I, II ve III

DENEME 2 TARİH

9. Aşağıdaki antlaşmalardan hangisi XVII. yüzyılda Osmanlı Devleti ile İran arasında imzalanmıştır?

- A) Karlofça B) Ferhat Paşa C) Vasvar
D) Bucaş E) Amasya

10. Fransız İhtilali ile başlayan milliyetçilik akımı Osmanlı Devleti'ni olumsuz yönde etkilemiştir. Milliyetçilik etkisiyle başlayan azınlık isyanları zamanla devletten kopmalara neden olmuştur.

Osmanlı Devleti'nden yukarıdaki duruma uygun olarak kopan ilk azınlık aşağıdakilerden hangisidir?

- A) Sırpalar B) Boşnaklar C) Ermeniler
D) Yunanlılar E) Araplar




AYT

**COĞRAFYA
TARİH**



3. DENEME



1. Her yıl karalar üzerine yağışlarla yüz elli milyon ton doğal gübre düşmesi, aşağıda verilenlerden hangisi sayesinde gerçekleşir?

- A) Azot döngüsü B) Oksidasyon
C) Aerosoller D) Fotoliz
E) Karbonasyon

2. Yerleşmelerin ortaya çıktığı dönemde doğal çevre koşulları, bunların oluşumu üzerinde oldukça etkili olmuştur. Özellikle ilk yerleşmelerin ortaya çıktığı alanların konumları değerlendirildiğinde, bu koşulların baskın olduğu görülür.

Buna göre aşağıda verilen özelliklerden hangisinin, ilk yerleşmelerin konumu üzerinde diğerlerinden daha fazla etkili olduğu söylenebilir?

- A) Doğal limanlar
B) Yükselti
C) Toprak özellikleri
D) İklim
E) Su kaynakları

3. Herhangi bir ülkede, çalışan nüfusun ekonomik faaliyet kollarına dağılımı farklılıklar gösterir. Dolayısıyla çalışan nüfusun sektörel dağılımı, o ülkedeki pek çok özellik hakkında bilgiler verir.

Buna göre, ülkelerin aktif nüfusunun ekonomik faaliyet kollarındaki dağılışı ile ilgili olarak aşağıda verilen bilgilerden hangisinin doğru olduğu söylenemez?

- A) Ülkede yer alan doğal kaynakların işlenmemiş ham maddeler olarak dışarıya pazarlandığı ülkeler genelde gelişmemiş ülkelerdir.
B) Gelişmekte olan ülkelerde, birincil sektörün payı hızla azalmakta, ikincil ve özellikle de üçüncül ekonomik faaliyetler baskın hâle gelmektedir.
C) Gelişmiş ülkelerde, ikincil ve üçüncül faaliyetlerde çalışan nüfusun oranı oldukça fazladır.
D) İkincil ve üçüncül ekonomik faaliyetlerin yaygın olduğu ülkelerde, kişi başına düşen gelir daha fazladır.
E) Günümüz dünyasında ham maddeye bağlı endüstriyel faaliyetler önemini korumakta ve bu nedenle sanayi belirli yerlerde toplanma eğilimindedir.

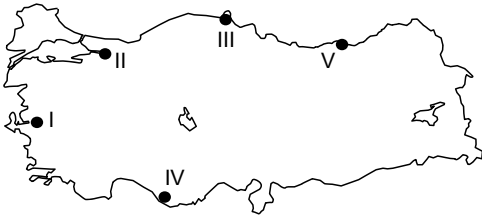
4. I. Elverişli iklim koşulları
II. Zengin yer altı kaynakları
III. Geniş otlak ve çayırlar

Anadolu uygarlıklarının ortaya çıkmasında etkili olan faktörler ile ilgili yukarıda verilen etkenlerden hangilerinin, önemli sonuçlara yol açtığı söylenemez?

- A) Yalnız I B) Yalnız II C) Yalnız III
D) I ve II E) II ve III

5. Coğrafya öğretmeni Doğu Bey, 9. Sınıf öğrencilerinin yer şekillerinin oluşumu konusunu işlerken onların sentez yeteneğini geliştirmek için aşağıdaki Türkiye haritasını verip şu soruyu sormuştur:

“Çocuklar, kıyıya yakın bir adanın kıyı oku ile karaya bağlanması sonucunda tombolo adı verilen yer şekli ortaya çıkar. Türkiye haritası üzerinde gösterilen yerlerin hangisinde tomboloya örnek verilebilecek bir yer bulunur?”



Buna göre öğrenciler, öğretmenlerine haritada numaralandırılmış noktalardan hangisini söylediğinde doğru cevap vermiş olur?

- A) I B) II C) III D) IV E) V

6. Türkiye’de yer şekilleri ile ekonomik faaliyetler arasında yakın bir ilişki vardır.

Buna göre, aşağıdaki yerlerin hangisinde karşısında verilen ekonomik faaliyet yoğun olarak yapılmaz?

Yöreler	Ekonomik Faaliyetler
A) Orta Toros Dağları	Yaylacılık
B) Orta Anadolu Platoları	Hayvancılık
C) Harran Ovası	Tarım
D) Gökova Körfezi	Kıyı turizmi
E) Gediz Ovası	Sanayi

DENEME 3 TARİH

1. I. Çin
II. Moğol
III. Bizans

Yukarıdaki uygarlıklardan hangileri İslam öncesinde Türklerle etkileşim yaşamışlardır?

- A) Yalnız I B) Yalnız II C) I ve II
D) I ve III E) II ve III

2. Orta Asya Türkleri; Gök Tanrı, Manihaizm, Budizm gibi dinler benimsemiştir. Kurgan denilen mezarlara ölenleri eşyalarıyla gömmüş; mezarların başına ölenin öldürdüğü düşman sayısı kadar balbal denilen heykeller dikmişlerdir.

Yukarıda verilen bilgilere göre Orta Asya Türkleri ile ilgili aşağıdaki yargılardan hangisine ulaşamaz?

- A) Ölümünden sonraki yaşama inanmışlardır.
B) Atalar kültürüne inanmışlardır.
C) Farklı dinlere inanmışlardır.
D) Heykeltçilik faaliyetlerinde bulunmuşlardır.
E) Kahramanlığa önem vermişlerdir.

3. I. Türgişler
II. Hazarlar
III. Karluklar

Yukarıda verilen Türk topluluklarından hangileri Emevilerle mücadele ederek Orta Asya'nın Araplaşmasını engellemeye çalışmışlardır?

- A) Yalnız II B) I ve II C) I ve III
D) II ve III E) I, II ve III

4. Akkoyunlu hükümdarı Uzun Hasan, Kuran-ı Kerim'i Türkçeye çevirtmiştir.

Bu bilgi dikkate alındığında, Uzun Hasan ile ilgili;

- I. Ulusçu bir yaklaşım gösterdiği,
II. Türk-İslam birliğini sağladığı,
III. Türkçeye önem verdiği

yargılarından hangilerine ulaşılabilir?

- A) Yalnız I B) Yalnız III C) I ve II
D) I ve III E) II ve III

5. Aşağıdakilerden hangisi Anadolu'da beylikler döneminden kalma eserler arasında gösterilemez?

- A) Divriği Ulu Camisi
- B) Kayseri Ulu Camisi
- C) Bursa Ulu Camisi
- D) Tokat Yağlıbasan Medresesi
- E) Diyarbakır Malabadi Köprüsü

7. I. Bizans İmparatorluğu
II. Pontus Devleti
III. Mora Despotluğu

Yukarıda verilenlerden hangileri Fatih Sultan Mehmet döneminde yıkılan Rum kökenli devletlere örnek gösterilebilir?

- A) Yalnız I
- B) I ve II
- C) I ve III
- D) II ve III
- E) I, II ve III

6. I. Coğrafi Keşifler
II. Rönesans Hareketleri
III. Reform Hareketleri

Yukarıdaki gelişmelerden hangileri Avrupa dışında da etkili olmuştur?

- A) Yalnız I
- B) I ve II
- C) I ve III
- D) II ve III
- E) I, II ve III

8. Osmanlı Devleti, aşağıdaki adaların hangisini diğerlerinden daha sonra fethetmiştir?

- A) Rodos
- B) Limni
- C) Midilli
- D) Sakız
- E) Girit

9. I. Küçük Kaynarca Antlaşması
II. Aynalıkavak Tenkihnamesi
III. Zıştovi Antlaşması
IV. Yaş Antlaşması

Yukarıdaki belgelerin hangilerinde Kırım'la ilgili kararlara yer verilmiştir?

- A) I ve II B) II ve IV C) I, II ve IV
D) II, III ve IV E) I, II, III ve IV

10. Osmanlı Devleti'nde;

- I. Mısır'ın işgali sırasında İngiltere ve Rusya'dan destek alınması,
II. Kırım Savaşı'nda İngiltere ve Fransa'dan destek alınması,
III. Mora İsyanı sırasında Kavalalı Mehmet Ali Paşa'nın donanma göndermesi

durumlarından hangileri "Denge Politikası" izlendiğine kanıt gösterilebilir?

- A) Yalnız I B) I ve II C) I ve III
D) II ve III E) I, II ve III




AYT

**COĞRAFYA
TARİH**



4. DENEME



DENEME 4 COĞRAFYA

1. Doğal kaynaklar, doğal ortamda bulunan ve insanların ihtiyaçlarını gidermek için kullanabildikleri tüm doğal unsurlardır.

Buna göre, aşağıdaki doğal kaynaklardan hangisi daha uzun bir sürede oluşmaktadır?

- A) Toprak B) Orman C) Meralar
D) Fosil yakıtlar E) Deniz ürünleri

2. Ticari işletmeler, yakın çevrelerinde meydana gelen ekonomik, sosyokültürel, teknolojik ve ekolojik değişimlerden etkilenir.

Buna göre, ekonomik faaliyet alanını planlamak isteyen bir işletme, aşağıda verilerden hangisine nüfus sayımı sonuçlarından ulaşabilir?

- A) Nüfusun tüketim davranışları
B) Dış pazar olanakları
C) Teknolojik gelişmeler
D) Faaliyet alanındaki diğer işletmeler
E) Faaliyet bölgesindeki nüfusun okuryazarlık oranı

- 3.

	Nüfus (milyon)	GSYİH (milyar\$)	Yüz ölçümü (1000km ²)
Brezilya	190.7	2145	8514
Rusya	142.9	2222	17098
Hindistan	1189	4060	3287
Çin	1339	10085	9640
G.Afrika C.	50.5	523.9	1221

GSYİH: Gayrisafi Yurt İçi Hasıla

'BRICS' adıyla bilinen ülkelere ait bazı bilgilerin bulunduğu yukarıdaki tablodan yararlanarak;

- I. kişi başına düşen GSYİH,
II. ekonomik büyüme hızı,
III. nüfus yoğunluğu,
IV. nüfus artış hızı

özelliklerinden hangileri bulunamaz?

- A) Yalnız I B) Yalnız II C) I ve II
D) II ve IV E) III ve IV

- 4.



Aşağıdakilerden hangisi haritada gösterilen iklim bölgesinin özelliklerinden biri değildir?

- A) Kış mevsimi yağışlıdır.
B) Yazlar sıcak ve kuraktır.
C) Yıllık sıcaklık farkı Doğu Anadolu'ya göre azdır.
D) Kış mevsimi ılık ve kar yağışlıdır.
E) Mevsimler belirgindir.